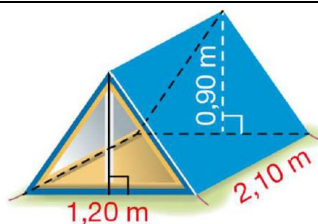


Exercice 1

31 Cette tente a la forme d'un prisme droit. Calculer son volume.

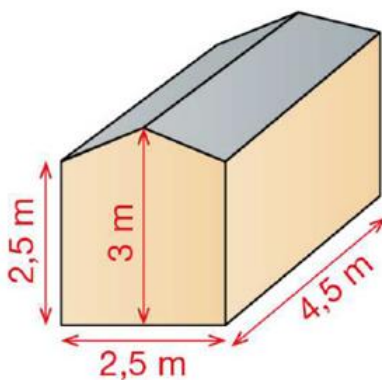


Exercice 2

74 Décomposer un solide

Raisonnement • Calculer • Communiquer

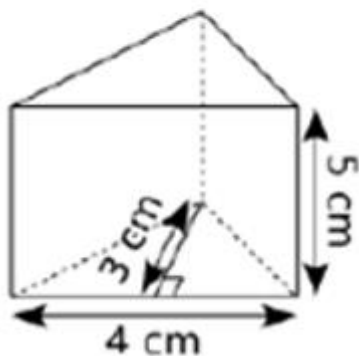
La figure ci-contre représente une petite cabane vue en perspective. Calculer le volume de cette cabane.



Exercice 3

Calculer les volumes des solides suivants :

a.



b.

